

# Proyecto MaTeX

## Continuidad

Fco Javier González Ortiz

### Directorio

- [Tabla de Contenido](#)
- [Inicio Artículo](#)

© 2004 [javier.gonzalez@unican.es](mailto:javier.gonzalez@unican.es)  
D.L.:SA-1415-2004

ISBN: 84-688-8267-4



MaTeX

CONTINUIDAD



# Tabla de Contenido

1. Continuidad
  - 1.1. ¿Qué es una función continua?
  - 1.2. Definición de continuidad
  - 1.3. Algebra de las funciones continuas
2. Discontinuidad
  - 2.1. Discontinuidad Evitable
  - 2.2. Discontinuidad de salto finito
  - 2.3. Discontinuidad de salto infinito
3. Teoremas de Continuidad
  - 3.1. Continuidad en un intervalo
  - 3.2. Teorema de Bolzano
  - 3.3. Teorema de los valores intermedios
  - 3.4. Teorema de los Valores Extremos
4. Ejercicios de repaso


Soluciones a los Ejercicios

Soluciones a los Tests



MaTeX

CONTINUIDAD

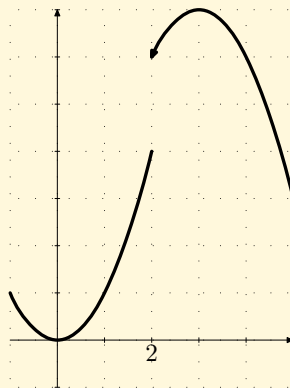




## 1. Continuidad

### 1.1. ¿Qué es una función continua?


Para una primera aproximación gráfica, si piensas en el grafo de una función, decimos que una función es continua cuando podemos recorrer el grafo de la función si tener que realizar ningún salto. Observa las figuras de abajo



La función de la izquierda no presenta ningún salto y decimos que es continua. La función de la derecha presenta un salto en el punto  $x = 2$ . Decimos que no es continua en este punto.

MaTeX

CONTINUIDAD



## 1.2. Definición de continuidad

**Definición 1.1** Sea  $f$  una función y  $a \in \text{Dom}(f)$  decimos que  $f$  es *continua* en  $x = a$  cuando

$$\lim_{x \rightarrow a} f(x) = f(a) \quad (1)$$

La continuidad de  $f$  en  $x = a$  implica que se cumplan las condiciones:

1. La función está definida en  $x = a$ , es decir exista  $f(a)$ .
2. Exista el límite de  $f$  en  $x = a$ .
3. Los dos valores anteriores coincidan.

**Ejemplo 1.1.** La función  $f(x) = 3$  es continua en todo punto  $a \in \mathbb{R}$

*Solución:* En efecto, para todo punto  $a \in \mathbb{R}$  vemos que se verifica la **definición**, pues

$$\lim_{x \rightarrow a} f(x) = f(a) = 3$$

□

**Ejemplo 1.2.** La función  $f(x) = C$  donde  $C$  es cualquier constante, es continua en todo punto  $a \in \mathbb{R}$


*Solución:* En efecto, para todo punto  $a \in \mathbb{R}$  vemos que se verifica la **definición**, pues

$$\lim_{x \rightarrow a} f(x) = f(a) = C$$



MaTeX

CONTINUIDAD





Establecemos este resultado como

La función  $f(x) = C$  es continua en todo  $x \in R$

**Ejemplo 1.3.** La función  $f(x) = x^2$  es continua en todo punto  $a \in R$

*Solución:* En efecto, para todo punto  $a \in R$  vemos que se verifica la **definición**, pues

$$\lim_{x \rightarrow a} f(x) = \lim_{x \rightarrow a} x^2 = f(a) = a^2$$

**Ejemplo 1.4.** La función  $f(x) = x^n$  con  $n \in N$  es continua en todo punto  $a \in R$

*Solución:* En efecto, para todo punto  $a \in R$  vemos que se verifica la **definición**, pues

$$\lim_{x \rightarrow a} f(x) = \lim_{x \rightarrow a} x^n = f(a) = a^n$$

Establecemos este resultado como

La función  $f(x) = x^n$  es continua en todo  $a \in R$

MaTeX

CONTINUIDAD





### 1.3. Álgebra de las funciones continuas

Sean  $f$  y  $g$  funciones continuas en un punto  $a \in R$ . Entonces

Álgebra de funciones continuas	
Homogeneidad	$c \cdot f(x)$ con $c \in R$ es continua en $a \in R$
Suma	$f(x) + g(x)$ es continua en $a \in R$
Producto	$f(x) \cdot g(x)$ es continua en $a \in R$
Cociente	$\frac{f(x)}{g(x)}$ si $g(a) \neq 0$ es continua en $a \in R$

**Ejemplo 1.5.** Calcular el valor de  $k$  para que la función sea continua

$$f(x) = \begin{cases} x + k & x \neq 1 \\ 2 & x = 1 \end{cases}$$

*Solución:* Siendo

$$f(x) = \begin{cases} x + k & x \neq 1 \\ 2 & x = 1 \end{cases}$$


- $f(1) = 2$
- $\lim_{x \rightarrow 1} x + k = 1 + k$

Para que sea continua,  $1 + k = 2 \implies \boxed{k = 1}$ .

□

MaTeX

CONTINUIDAD





**Ejemplo 1.6.** Calcular el valor de  $k$  para que la función sea continua

$$f(x) = \begin{cases} x + k & x \neq 1 \\ 2 - k & x = 1 \end{cases}$$

*Solución:* Siendo

$$f(x) = \begin{cases} x + k & x \neq 1 \\ 2 - k & x = 1 \end{cases}$$

- $f(1) = 2 - k$
- $\lim_{x \rightarrow 1} x + k = 1 + k$

Para que sea continua,  $1 + k = 2 - k \implies k = \frac{1}{2}$ . □

**Ejercicio 1.** Calcular el valor de  $k$  para que la función sea continua


$$f(x) = \begin{cases} \frac{x-1}{x^2-1} & x \neq 1 \\ k & x = 1 \end{cases}$$

**Ejercicio 2.** Calcular el valor de  $h$  para que exista el límite de la función en  $x = -3$

$$f(x) = \begin{cases} 2x + h & x < -3 \\ \frac{x^2 - 9}{x^3 + 2x^2 - x + 6} & x > -3 \end{cases}$$

MaTeX

CONTINUIDAD





## 2. Discontinuidad

**Definición 2.1** Decimos que una función es *discontinua* en el punto  $x = a$  cuando *no es continua* en  $x = a$ .

Se pueden presentar los siguientes casos cuando una función no es continua:

### Tipos de Discontinuidad

- **Evitable**, cuando  $\lim_{x \rightarrow a} f(x) \neq f(a)$ .

En este caso existe el límite pero el valor de la función  $f(a)$  es distinto o no está definido.

- **Salto finito**, cuando  $\lim_{x \rightarrow a^-} f(x) \neq \lim_{x \rightarrow a^+} f(x)$ .


En este caso los límites laterales son finitos pero de distinto valor.

- **Salto infinito**, cuando algún límite lateral  $\lim_{x \rightarrow a^-} f(x)$ ,  $\lim_{x \rightarrow a^+} f(x)$  es infinito

A continuación analizamos cada uno de los tipos de discontinuidad que hemos clasificado en el cuadro superior

MaTeX

CONTINUIDAD







## 2.1. Discontinuidad Evitable

Decimos que una función en el punto  $x = a$  presenta una discontinuidad **evitable** cuando existe  $\exists \lim_{x \rightarrow a} f(x) = L$  (finito), pero no coincide con  $f(a)$ .

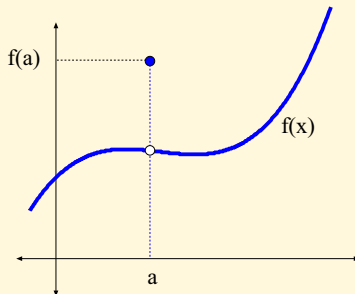
Se tiene que los límites laterales coinciden

$$\lim_{x \rightarrow a^-} f(x) = \lim_{x \rightarrow a^+} f(x) = L$$

pero

$$f(a) \neq L$$

$$\boxed{\exists \lim_{x \rightarrow a} f(x) \neq f(a)}$$



**Ejemplo 2.1.** Analizar la continuidad de la función  $f(x) = \frac{x^2 - 1}{x - 1}$ .


*Solución:*  $\lim_{x \rightarrow 1} f(x) = 2$  pero  $f(1)$  no existe, en  $x = 1$  presenta una discontinuidad evitable.

$$\begin{aligned} \lim_{x \rightarrow 1} f(x) &= \lim_{x \rightarrow 1} \frac{x^2 - 1}{x - 1} = \\ &= \lim_{x \rightarrow 1} \frac{(x - 1)(x + 1)}{x - 1} = \lim_{x \rightarrow 1} (x + 1) = 2 \end{aligned}$$

□

MaTeX

CONTINUIDAD





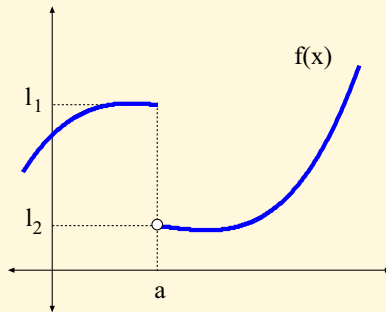
## 2.2. Discontinuidad de salto finito

Decimos que una función en el punto  $x = a$  presenta una discontinuidad de **salto finito** cuando existe los límites laterales y son distintos.

$$\left. \begin{aligned} \lim_{x \rightarrow a^-} f(x) &= l_1 \\ \lim_{x \rightarrow a^+} f(x) &= l_2 \end{aligned} \right\} l_1 \neq l_2$$

El salto de la función viene dado por

$$\lim_{x \rightarrow a^+} f(x) - \lim_{x \rightarrow a^-} f(x)$$



**Ejemplo 2.2.** Analizar la continuidad de  $f(x) = \begin{cases} x+1 & x \leq 0 \\ x^2-1 & 0 < x \end{cases}$


*Solución:* En  $x = 0$ ,  $f(0) = 1$ , pero los límites laterales

$$\left. \begin{aligned} \lim_{x \rightarrow 0^-} f(x) &= \lim_{x \rightarrow 0^-} x + 1 = 1 \\ \lim_{x \rightarrow 0^+} f(x) &= \lim_{x \rightarrow 0^+} x^2 - 1 = -1 \end{aligned} \right\} \implies f(0^-) \neq f(0^+)$$

son distintos, luego en  $x = 0$  hay una discontinuidad de salto finito.  $\square$

MaTeX

CONTINUIDAD

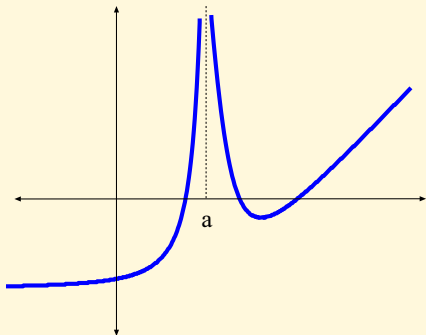


## 2.3. Discontinuidad de salto infinito

Decimos que una función en el punto  $x = a$  presenta una discontinuidad de **salto infinito** cuando algún límite lateral de  $f(x)$  en  $x = a$  es infinito. En las figuras se muestran dos ejemplos de salto infinito en  $x = a$ .

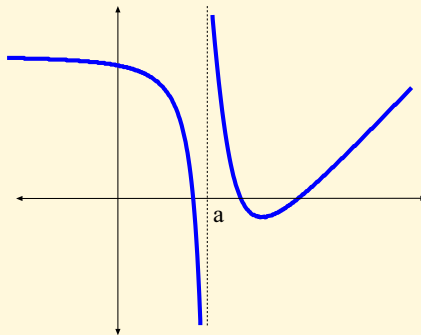
$$\lim_{x \rightarrow a^-} f(x) = +\infty$$

$$\lim_{x \rightarrow a^+} f(x) = +\infty$$




$$\lim_{x \rightarrow a^-} f(x) = -\infty$$

$$\lim_{x \rightarrow a^+} f(x) = +\infty$$



MaTeX

CONTINUIDAD





**Ejemplo 2.3.** Hallar  $a$  para que  $f(x)$  sea continua en  $x = 1$ .

$$f(x) = \begin{cases} x^3 - 1 & x \leq 1 \\ ax - 2 & 1 < x \end{cases}$$

*Solución:*

Para que sea continua en  $x = 1$

$$f(1^-) = 0 = f(1^+) = a - 2 \implies \boxed{a = 2}$$

□

**Ejemplo 2.4.** Dada la función

$$f(x) = \begin{cases} 2x + a & x \leq -1 \\ -x^2 + 2 & -1 < x \leq 1 \\ \ln x & 1 < x \end{cases}$$

- a) Hallar  $a$  para que  $f(x)$  sea continua en  $x = -1$   
 b) ¿Es continua en  $x = 1$ ?

*Solución:*


- a) Para que sea continua en  $x = -1$

$$f(-1^-) = -2 + a = f(-1^+) = 1 \implies \boxed{a = 3}$$

- b) ¿Es continua en  $x = 1$ ? No, pues  $f(1^-) = 1 \neq f(1^+) = \ln 1 = 0$

MaTeX

CONTINUIDAD





**Ejemplo 2.5.** La función  $f(x) = \frac{x^2 - 9}{x - 3}$ , ¿es continua en  $x = 3$ ?

*Solución:* La función presenta en  $x = 3$  una discontinuidad evitable, pues

- $f(3) = \frac{0}{0}$  no está definido
- $\lim_{x \rightarrow 3} \frac{x^2 - 9}{x - 3} = \lim_{x \rightarrow 3} \frac{(x - 3)(x + 3)}{x - 3} = \lim_{x \rightarrow 3} x + 3 = 6$

**Ejercicio 3.** Hallar  $a$  para que  $f(x)$  sea una función continua en  $x = 0$

$$f(x) = \begin{cases} \frac{e^{ax}}{x + 2} & x \leq 0 \\ x^2 + 2ax + a & x > 0 \end{cases}$$

**Ejercicio 4.** Dada la función  $f(x) = x^2 \operatorname{sen} \frac{1}{x}$  hallar el valor que debe asignarse a  $f(0)$  para que sea continua en  $\mathbb{R}$ .


**Ejercicio 5.** Sea

$$f(x) = \frac{\operatorname{sen}(1 + x)}{x^2 + ax + 2a}$$

una función que presenta una discontinuidad evitable en  $x = -1$ . Averiguar el valor del parámetro  $a$  y  $\lim_{x \rightarrow 1} f(x)$ .

MaTeX

CONTINUIDAD





### 3. Teoremas de Continuidad

#### 3.1. Continuidad en un intervalo

**Definición 3.1** Decimos que  $f$  es *continua* en  $[a, b]$  cuando es continua en todo punto  $x \in (a, b)$  y además

$$\lim_{x \rightarrow a^+} f(x) = f(a) \quad \lim_{x \rightarrow b^-} f(x) = f(b)$$

**Ejemplo 3.1.** La función  $f(x)$  no es continua en el intervalo  $[1, 3]$

$$f(x) = \begin{cases} x + 1 & x < 3 \\ x^2 - 1 & 3 \leq x \end{cases}$$

*Solución:* En  $x = 3$ ,  $f(3) = 8$ , pero el límite lateral

$$\lim_{x \rightarrow 3^-} f(x) = \lim_{x \rightarrow 3^-} x + 1 = 4$$

es distinto de  $f(3)$ , luego no es continua en el intervalo  $[1, 3]$ . □

**Ejemplo 3.2.** La función  $f(x)$  no es continua en el intervalo  $[1, 3]$

$$f(x) = \begin{cases} x + 1 & x \leq 3 \\ \ln(x - 3) & 3 < x \end{cases}$$

*Solución:* En  $x = 3$ , los límites laterales son

$$\lim_{x \rightarrow 3^-} x + 1 = 4 \quad \lim_{x \rightarrow 3^+} \ln(x - 3) = +\infty$$

distintos, luego no es continua en el intervalo  $[1, 3]$ . □

MaTeX

CONTINUIDAD





**Test.** Responde a las siguientes preguntas.

1. La función  $f(x) = \frac{1}{x}$  es continua en  $(0, 1)$

(a) Si (b) No

2. La función  $f(x) = \frac{1}{x}$  es continua en  $[0, 1)$

(a) Si (b) No

3.  $f(x) = \frac{1}{x}$  es continua en todo intervalo que no contenga al 0.

(a) Si (b) No

4. La función  $f(x) = \sqrt{x}$  es continua en  $[0, 10]$

(a) Si (b) No

5. Si  $f(x) = \frac{1}{x-a}$  es continua en  $[1, 5]$ , si


(a)  $a \notin [1, 5]$  (b)  $a \in [1, 5]$

6.  $f(x) = \frac{1}{x^2+1}$  es continua en todo intervalo  $[a, b]$

(a) Si (b) No

MaTeX

CONTINUIDAD



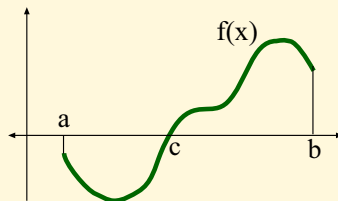


## 3.2. Teorema de Bolzano

**Teorema 3.1.** (Teorema de Bolzano) Sea  $f(x)$  una función continua en el intervalo  $I = [a, b]$  con  $f(a)$  y  $f(b)$  de distinto signo. Entonces existe  $c \in (a, b)$  con  $f(c) = 0$ .

$$\left. \begin{array}{l} f \text{ continua en } [a, b] \\ f(a) \cdot f(b) < 0 \end{array} \right\} \implies \exists c \in (a, b) \text{ con } f(c) = 0 \quad (2)$$

Recuerda que al número  $c$  que verifica  $f(c) = 0$  se le llama **cero**, o **raíz** de la función  $f$  y gráficamente representan los puntos de corte de la función con el eje  $OX$ .



**Ejemplo 3.3.** Demostrar por Bolzano que la ecuación

$$x^3 + x^2 - 7x + 1 = 0$$

tiene una solución en  $(0, 1)$ .

*Solución:* Sea

$$f(x) = x^3 + x^2 - 7x + 1$$

MaTeX  
CONTINUIDAD





se tiene que  $f$  es continua (por ser polinomio) en  $[0, 1]$ . Como

$$f(0) = 1 \quad f(1) = -4$$

la función cambia de signo y existirá al menos un número  $c \in (0, 1)$  con  $f(c) = 0$ . es decir la función tiene al menos una raíz entre 0 y 1.  $\square$

**Ejercicio 6.** ¿Por qué no es suficiente en el teorema que la función  $f$  sea continua en  $(a, b)$ ? Razonar la respuesta.

**Ejercicio 7.** Demostrar que la ecuación

$$x^3 + x - 5 = 0$$

tiene al menos una solución  $x = c$  tal que  $1 < c < 2$ .

**Ejercicio 8.** Para la función

$$f(x) = 4x^2 - 4x + 1$$

utilizando el teorema de Bolzano en  $[0, 1]$ , ¿podemos afirmar que existe  $c \in (0, 1)$  verificando que  $f(c) = 0$ ? Calcular el valor de  $c \in (0, 1)$  que verifica  $f(c) = 0$  y razonar por qué esto no contradice el teorema.

**Ejercicio 9.** Comprobar que la ecuación


$$x^2 = x \operatorname{sen} x + \cos x$$

posee alguna solución real en  $[0, \pi]$ .



MaTeX

CONTINUIDAD



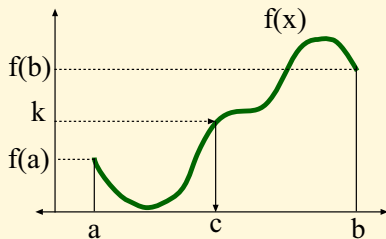


### 3.3. Teorema de los valores intermedios

**Teorema 3.2.** (Teorema de los valores intermedios)

$$\left. \begin{array}{l} f \text{ continua en } [a, b] \\ f(a) < k < f(b) \end{array} \right\} \implies \exists c \in (a, b) \text{ con } f(c) = k \quad (3)$$

El teorema afirma que si  $f(x)$  una función continua en el intervalo  $I = [a, b]$ , siendo  $k$  un valor comprendido entre  $f(a)$  y  $f(b)$ , entonces existe al menos un valor  $c \in (a, b)$  con  $f(c) = k$ .



**Ejercicio 10.** Demostrar que la función  $f(x) = x^2 + x - 1$  toma el valor  $f(c) = 11$  con  $c \in (0, 5)$ .

**Ejercicio 11.** Demostrar que la función  $f(x) = \frac{1}{x}$  toma el valor  $f(c) = 500$  con  $c \in (0'001, 0'1)$ .

MaTeX

CONTINUIDAD





### 3.4. Teorema de los Valores Extremos

#### Teorema 3.3. (Teorema de los Valores Extremos)

Sea  $f(x)$  una función continua en el intervalo cerrado  $I = [a, b]$ . Entonces

1. Existe un punto  $x_{min} \in I$  que es un mínimo absoluto para  $f$ .
2. Existe un punto  $x_{max} \in I$  que es un máximo absoluto para  $f$ .

El teorema asegura que la función alcanza un máximo  $M$  y un mínimo  $m$

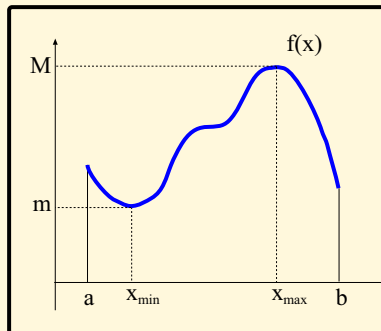
$$m \leq f(x) \leq M \quad x \in [a, b]$$

que son alcanzados por dos puntos

$$x_{min} \in [a, b] \quad x_{max} \in [a, b]$$


$$f(x_{min}) = m$$

$$f(x_{max}) = M$$



MaTeX

CONTINUIDAD





## 4. Ejercicios de repaso

**Ejercicio 12.** Calcular el valor de  $a$  y  $b$  para que la función sea continua para todo  $x$

$$f(x) = \begin{cases} \frac{x^2 - ax - 6}{x - 2} & x < 2 \\ x^2 + b & x \geq 2 \end{cases}$$

**Ejercicio 13.** Hallar  $a$  para que las funciones sean continuas en  $x = 1$ .

$$\begin{aligned} a) \quad f(x) &= \begin{cases} x + a & x \leq 1 \\ 2 & 1 < x \end{cases} & b) \quad g(x) &= \begin{cases} a^2 x & x \leq 1 \\ 1 & 1 < x \end{cases} \\ c) \quad h(x) &= \begin{cases} ax & x \leq 1 \\ x - a & 1 < x \end{cases} & d) \quad y(x) &= \begin{cases} a^2 x + 2 & x \leq 1 \\ 1 & 1 < x \end{cases} \end{aligned}$$

**Ejercicio 14.** Dada la función

$$g(s) = \begin{cases} \frac{s^2 - s}{s - 1} & s > 1 \\ \sqrt{1 - s} & s \leq 1 \end{cases}$$

¿es continua en  $s = 1$ ?

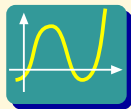
**Ejercicio 15.** Hallar los puntos de discontinuidad de las funciones:

$$a) \quad f(x) = |x - 3| \qquad b) \quad f(x) = \frac{3x^2 - x - 2}{x - 1}$$

MaTEX

CONTINUIDAD





◀ Pulsa y elige el botón **Funciones a Trozos** y realiza la siguiente práctica con las funciones del ejercicio 13.


### Práctica 4.1.

- a) Sea la función:  $f(x) = \begin{cases} x+a & x \leq 1 \\ 2 & 1 < x \end{cases}$ . Para representarla introduce en  $f(x)$  la expresión  $x < 1 ? x+a:2$  y pulsa en el botón *Nueva Función*. Desplaza el botón de los valores de  $a$  y observa que la función es continua cuando  $a = 1$ .
- b) Sea la función:  $g(x) = \begin{cases} a^2 x & x \leq 1 \\ 1 & 1 < x \end{cases}$ . Para representarla introduce en  $f(x)$  la expresión  $x < 1 ? a^2*x:1$  y pulsa en el botón *Nueva Función*. Desplaza el botón de los valores de  $a$  y observa que la función es continua cuando  $a = \pm 1$ .
- c) Sea la función:  $h(x) = \begin{cases} ax & x \leq 1 \\ x-a & 1 < x \end{cases}$ . Para representarla introduce en  $f(x)$  la expresión  $x < 1 ? a*x:x-a$  y pulsa en el botón *Nueva Función*. Desplaza el botón de los valores de  $a$  y observa que la función es continua cuando  $a = 0,5$ .
- d) Sea la función:  $y(x) = \begin{cases} a^2 x + 2 & x \leq 1 \\ 1 & 1 < x \end{cases}$ . Para representarla introduce en  $f(x)$  la expresión  $x < 0 ? a^2*x+2:1$  y pulsa en el botón *Nueva Función*. Desplaza el botón de los valores de  $a$  y observa que la función es discontinua para cualquier valor de  $a$ .



MaTeX

CONTINUIDAD





**Ejercicio 16.** Calcular  $m$  y  $b$  para que la función sea continua en  $\mathbb{R}$


$$f(x) = \begin{cases} 4 \operatorname{sen} x & x \leq -\frac{3\pi}{2} \\ m \operatorname{sen} x + b & -\frac{3\pi}{2} < x < \frac{3\pi}{2} \\ 4 \operatorname{cos} x & x \geq \frac{3\pi}{2} \end{cases}$$

**Ejercicio 17.** Hallar  $a$  y  $b$  para que  $f(x)$  sea una función continua en  $x = 0$  y  $x = \pi$

$$f(x) = \begin{cases} \frac{1}{e^x} & x \leq 0 \\ a \operatorname{cos} x + b & 0 < x \leq \pi \\ \operatorname{sen} x - ax & x > \pi \end{cases}$$

MaTeX

CONTINUIDAD



## Soluciones a los Ejercicios

Ejercicio 1. Siendo

$$f(x) = \begin{cases} \frac{x-1}{x^2-1} & x \neq 1 \\ k & x = 1 \end{cases}$$

- $f(1) = k$

- $\lim_{x \rightarrow 1} \frac{x-1}{x^2-1} = \lim_{x \rightarrow 1} \frac{x-1}{(x-1)(x+1)} = \lim_{x \rightarrow 1} \frac{1}{x+1} = 1/2$

Para que sea continua,  $k = \frac{1}{2}$ .

Ejercicio 1



MaTEX

CONTINUIDAD





## Ejercicio 2. Siendo

$$f(x) = \begin{cases} 2x + h & x < -3 \\ \frac{x^2 - 9}{x^3 + 2x^2 - x + 6} & x > -3 \end{cases}$$

$$f(-3^-) = \lim_{x \rightarrow -3^-} 2x + h = h - 6$$

$$\begin{aligned} f(-3^+) &= \lim_{x \rightarrow -3^+} \frac{x^2 - 9}{x^3 + 2x^2 - x + 6} = \lim_{x \rightarrow -3^+} \frac{(x - 3)(x + 3)}{(x + 3)(x^2 - x + 2)} = \\ &= \lim_{x \rightarrow -3^+} \frac{(x - 3)}{(x^2 - x + 2)} = \frac{-6}{14} \end{aligned}$$

Para que exista  $\lim_{x \rightarrow -3} f(x)$ ,  $h - 6 = -\frac{6}{14} \implies h = \frac{78}{14}$

Ejercicio 2

MaTeX

CONTINUIDAD





**Ejercicio 3.** Siendo

$$f(x) = \begin{cases} \frac{e^{ax}}{x+2} & x \leq 0 \\ x^2 + 2ax + a & x > 0 \end{cases}$$

$$f(0^-) = \lim_{x \rightarrow 0^-} \frac{e^{ax}}{x+2} = \frac{1}{2}$$

$$f(0^+) = \lim_{x \rightarrow 0^+} x^2 + 2ax + a = a$$

Para que sea continua en  $x = 0$ ,  $a = \frac{1}{2}$

Ejercicio 3



MaTeX

CONTINUIDAD



**Ejercicio 4.** Siendo

$$f(x) = x^2 \operatorname{sen} \frac{1}{x}$$

$f$  es continua en su dominio  $\operatorname{Dom}(f) = \mathbb{R} - \{0\}$ . El valor que debe asignarse a  $f(0)$  es el límite.

$$\lim_{x \rightarrow 0} f(x) = \lim_{x \rightarrow 0} x^2 \operatorname{sen} \frac{1}{x} \stackrel{(1)}{=} 0$$

(1) se ha obtenido teniendo en cuenta que

$$\lim_{x \rightarrow 0} x^2 = 0 \implies x^2 \text{ es infinitésimo}$$

$$\left| \operatorname{sen} \frac{1}{x} \right| \leq 1 \quad x \neq 0 \implies \text{acotada}$$

y que infinitésimo  $\times$  acotada = infinitésimo.

Ejercicio 4



MaTeX

CONTINUIDAD



**Ejercicio 5.** Siendo

$$f(x) = \frac{\text{sen}(1+x)}{x^2 + ax + 2a}$$

$$\lim_{x \rightarrow -1} f(x) = \lim_{x \rightarrow -1} \frac{\text{sen}(1+x)}{x^2 + ax + 2a} = \frac{0}{1+a} \implies a = -1$$


$$= \lim_{x \rightarrow -1} \frac{\text{sen}(1+x)}{x^2 - x - 2} = \lim_{x \rightarrow -1} \frac{(1+x)}{(x+1)(x-2)} = -\frac{1}{3}$$

Ejercicio 5



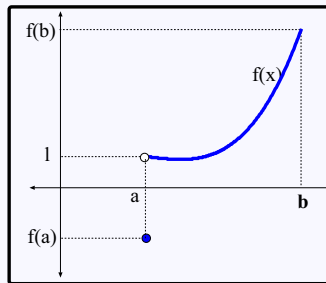
MaTeX

CONTINUIDAD



**Ejercicio 6.** Aunque se cumpla que  $f(a)$  y  $f(b)$  sean de signo contrario, la continuidad en el intervalo abierto  $(a, b)$  no garantiza que  $f$  corte al eje  $OX$  entre  $a$  y  $b$  pues puede ser discontinua en  $a$  o  $b$ . En el ejemplo gráfico se tiene que


$$\lim_{x \rightarrow a^+} f(x) = l \neq f(a)$$



Ejercicio 6



MaTeX  
CONTINUIDAD



**Ejercicio 7.** Sea

$$f(x) = x^3 + x - 5$$

se tiene que  $f$  es continua (por ser polinomio) en  $[1, 2]$ . Como

$$f(1) = -3 \quad f(2) = 5$$


la función cambia de signo y existirá al menos un número  $c \in (1, 2)$  con  $f(c) = 0$ . es decir la función tiene al menos una raíz entre 1 y 2.

Ejercicio 7



MaTeX

CONTINUIDAD



**Ejercicio 8.** Sea

$$f(x) = 4x^2 - 4x + 1$$

se tiene que  $f$  es continua (por ser polinomio) en  $[0, 1]$ . Como

$$f(0) = 1 \quad f(1) = 5$$

la función no cambia de signo no podemos aplicar el teorema en  $[0, 1]$ . Si resolvemos la ecuación de segundo grado se tiene

$$4x^2 - 4x + 1 = 0 \implies x = \frac{1}{2} \in (0, 1)$$


luego existe  $c \in (0, 1)$  con  $f(c) = 0$ . es decir la función tiene una raíz entre 0 y 1.

Ejercicio 8



MaTeX

CONTINUIDAD



**Ejercicio 9.** Sea

$$f(x) = x^2 - x \operatorname{sen} x - \cos x$$

se tiene que  $f$  es continua (por ser suma de funciones continuas) en  $[0, \pi]$ .

Como

$$f(0) = (0)^2 - (0) \operatorname{sen}(0) - \cos(0) = -1 < 0$$

$$f(\pi) = (\pi)^2 - \pi \operatorname{sen} \pi - \cos \pi = \pi^2 + 1 > 0$$


la función cambia de signo y existirá al menos un número  $c \in (0, \pi)$  con  $f(c) = 0$ , es decir la función tiene al menos una raíz entre 0 y  $\pi$ .

Ejercicio 9



MaTeX

CONTINUIDAD



**Prueba del Teorema 3.2.** La demostración se obtiene definiendo la función

$$g(x) = f(x) - k$$

y aplicando el teorema de Bolzano en el intervalo  $[a, b]$ . En efecto, la función  $g(x)$  es continua por ser diferencia de funciones continuas en  $[a, b]$ . Por otra parte  $g(x)$  cambia de signo en  $[a, b]$

$$g(a) = f(a) - k < 0 \quad g(b) = f(b) - k > 0$$

luego por Bolzano

$$\exists c \in (a, b) \quad g(c) = 0 = f(c) - k$$


y de aquí

$$\exists c \in (a, b) \quad f(c) = k$$



MaTeX

CONTINUIDAD





**Ejercicio 10.** Sea  $f(x) = x^2 + x - 1$  se tiene que  $f$  es continua (por ser polinomio) en  $[0, 5]$ . Como

$$f(0) = -1 < 11 < f(5) = 29$$

existirá al menos un número  $c \in (0, 5)$  con  $f(c) = 11$ . En este caso el valor de  $c$  se puede hallar, pues la ecuación resulta

$$x^2 + x - 1 = 11 \implies x^2 + x - 12 = 0 \implies x = -4, \boxed{3}$$

Ejercicio 10



MaTeX

CONTINUIDAD



**Ejercicio 11.** Se tiene que

$$f(x) = \frac{1}{x}$$

es continua en  $[0'001, 0'1]$ , pues  $Dom(f) = R - \{0\}$ . Como

$$f(0'1) = 10 < 500 < f(0'001) = 1000$$

existirá al menos un número  $c \in (0'001, 0'1)$  con  $f(c) = 500$ . En este caso el valor de  $c$  es obviamente


$$\frac{1}{c} = 500 \implies \boxed{c = 0'002}$$

Ejercicio 11



MaTeX

CONTINUIDAD



**Ejercicio 12.** Siendo

$$f(x) = \begin{cases} \frac{x^2 - ax - 6}{x - 2} & x < 2 \\ x^2 + b & x \geq 2 \end{cases}$$

$$f(2^-) = \lim_{x \rightarrow 2^-} \frac{x^2 - ax - 6}{x - 2} = \lim_{x \rightarrow 2^-} \frac{-2a - 2}{0} \Rightarrow \boxed{a = -1}$$

$$= \lim_{x \rightarrow 2^-} \frac{(x - 2)(x + 3)}{x - 2} = 5$$

$$f(2^+) = \lim_{x \rightarrow 2^+} x^2 + b = 4 + b$$

Para que sea continua en  $x = 2$ ,  $5 = 4 + b \Rightarrow \boxed{b = 1}$

Ejercicio 12



MaTeX

CONTINUIDAD



**Ejercicio 13.**

a) Para que  $f(x) = \begin{cases} x + a & x \leq 1 \\ 2 & 1 < x \end{cases}$  sea continua en  $x = 1$

$$f(1^-) = 1 + a = f(1^+) = 2 \implies \boxed{a = 1}$$

b) Para que  $g(x) = \begin{cases} a^2 x & x \leq 1 \\ 1 & 1 < x \end{cases}$  sea continua en  $x = 1$

$$f(1^-) = a^2 = f(1^+) = 1 \implies \boxed{a = \pm 1}$$

c) Para que  $h(x) = \begin{cases} ax & x \leq 1 \\ x - a & 1 < x \end{cases}$  sea continua en  $x = 1$

$$f(1^-) = a = f(1^+) = 1 - a \implies \boxed{a = 1/2}$$

d) Para que  $y(x) = \begin{cases} a^2 x + 2 & x \leq 1 \\ 1 & 1 < x \end{cases}$  sea continua en  $x = 1$


$$f(1^-) = a^2 + 2 = f(1^+) = 1 \implies a^2 = -1$$

no existe ningún valor de  $a$  que haga continua la función.

MaTeX

CONTINUIDAD

Ejercicio 13



**Ejercicio 14.** Siendo

$$g(s) = \begin{cases} \frac{s^2 - s}{s - 1} & s > 1 \\ \sqrt{1 - s} & s \leq 1 \end{cases}$$

$$g(1^+) = \lim_{s \rightarrow 1^+} \frac{s^2 - s}{s - 1} = \lim_{s \rightarrow 1^+} \frac{s(s - 1)}{s - 1} = 1$$

$$g(1^-) = \lim_{s \rightarrow 1^-} \sqrt{1 - s} = 0$$

Como  $\lim_{x \rightarrow 1^-} g(s) \neq \lim_{x \rightarrow 1^+} g(s)$ , la función no es continua en  $s = 1$ .

Ejercicio 14



MaTeX

CONTINUIDAD



**Ejercicio 15.**

a) Si una función  $f$  es continua entonces  $|f|$  también es continua. Luego  $f(x) = |x - 3|$  es continua en todo  $x \in \mathbb{R}$ .

b) Siendo

$$f(x) = \frac{3x^2 - x - 2}{x - 1}$$

Como  $Dom(f) = \mathbb{R} - \{1\}$ , la función es discontinua en  $x = 1$ . Como

$$\lim_{x \rightarrow 1} f(x) = \lim_{x \rightarrow 1} \frac{3x^2 - x - 2}{x - 1} = 5$$

presenta una discontinuidad evitable en  $x = 1$ .

Ejercicio 15

MaTeX

CONTINUIDAD



**Ejercicio 16.** Siendo  $f(x) = \begin{cases} 4 \operatorname{sen} x & x \leq -\frac{3\pi}{2} \\ m \operatorname{sen} x + b & -\frac{3\pi}{2} < x < \frac{3\pi}{2} \\ 4 \cos x & x \geq \frac{3\pi}{2} \end{cases}$

$$\left. \begin{aligned} f\left(-\frac{3\pi}{2}^{-}\right) &= \lim_{x \rightarrow -\frac{3\pi}{2}^{-}} 4 \operatorname{sen} x = 4 \\ f\left(-\frac{3\pi}{2}^{+}\right) &= \lim_{x \rightarrow -\frac{3\pi}{2}^{+}} m \operatorname{sen} x + b = m + b \end{aligned} \right\} \Rightarrow m + b = 4$$

$$\left. \begin{aligned} f\left(\frac{3\pi}{2}^{-}\right) &= \lim_{x \rightarrow \frac{3\pi}{2}^{-}} m \operatorname{sen} x + b = -m + b \\ f\left(\frac{3\pi}{2}^{+}\right) &= \lim_{x \rightarrow \frac{3\pi}{2}^{+}} 4 \cos x = 0 \end{aligned} \right\} \Rightarrow -m + b = 0$$

$$m = 2 \quad b = 2$$

Ejercicio 16



MaTeX

CONTINUIDAD



**Ejercicio 17.** Siendo  $f(x) = \begin{cases} \frac{1}{e^x} & x \leq 0 \\ a \cos x + b & 0 < x \leq \pi \\ \operatorname{sen} x - ax & x > \pi \end{cases}$

$$f(0^-) = \lim_{x \rightarrow 0^-} \frac{1}{e^x} = 1$$

$$f(0^+) = \lim_{x \rightarrow 0^+} a \cos x + b = a + b$$

$$f(\pi^-) = \lim_{x \rightarrow \pi^-} a \cos x + b = -a + b$$

$$f(\pi^+) = \lim_{x \rightarrow \pi^+} \operatorname{sen} x - ax = -a\pi$$

$$\begin{cases} a + b = 1 \\ -a + b = -a\pi \end{cases} \quad a = -\frac{1}{\pi - 2} \quad b = \frac{\pi - 1}{\pi - 2}$$

Ejercicio 17



MaTeX

CONTINUIDAD





## Soluciones a los Tests

**Solución al Test:** Como el dominio de  $f(x) = \frac{1}{x-a}$  es  $Dom(f) = \mathbb{R} - \{a\}$ , la función es continua en todo intervalo que no contenga a  $x = a$ .

Final del Test



MaTeX

CONTINUIDAD



## Índice alfabético

continuidad, 3

en un intervalo, 14

en un punto, 4

discontinuidad, 8

de salto finito, 10

de salto infinito, 11

evitable, 9

tipos de, 8

funciones continuas

álgebra de, 6

teorema

de los valores extremos, 19

teoremas, 16

de Bolzano, 16

de los valores intermedios, 18



MaTeX

CONTINUIDAD

